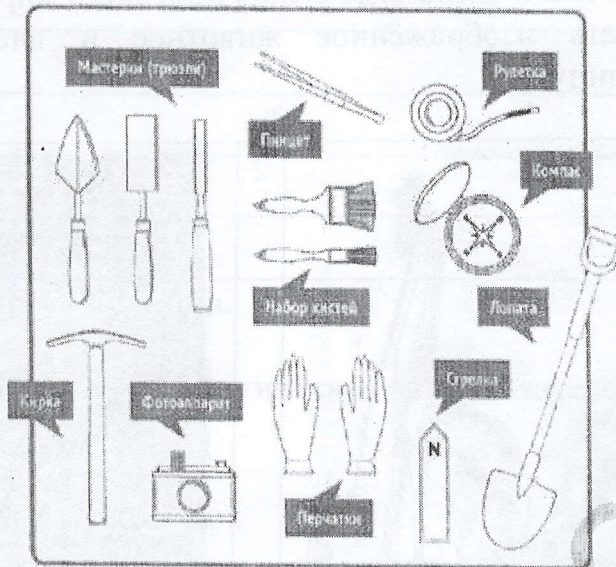


Фамилия Инджузов
 Имя Данил
 Школа 6
 Класс 5 "Б"
 Учитель Маршеникова Л.П.
 Код 510

76

ольников по истории 2019–2020 уч. г.
 ый этап. 5 класс

рументов. Назовите профессию учёного,




Ответ. археолог

Максимум за задание – 2 балла.

2. Верны ли следующие утверждения о представленном изображении («да» – «нет»)? Ответы внесите в таблицу.

1. Учёные, к которым относится изображённый на иллюстрации человек, занимаются поиском останков первобытных людей.
2. Учёные – коллеги изображённого человека изучают только первобытную эпоху.
3. На заднем фоне изображено жилище первобытного человека.




Ответ.

1	2	3
<u>да</u>	<u>нет</u>	<u>нет</u>

Максимум за задание – 6 баллов.

3. Люди, жившие много веков назад, видели и изображали окружающий мир своеобразно. Задача историка – расшифровать то, что они создали. Перед вами изображения животных, сделанные в эпоху древнего мира и средних веков. Вам необходимо узнать изображённое животное и внести ответ (название животного) в таблицу.



Ответ.

1	жиркоп
2	слон
3	обезьяна
4	бульвол
5	овца
6	заяц

Максимум за задание – 12 баллов.

4. Расставьте даты в верной хронологической последовательности.

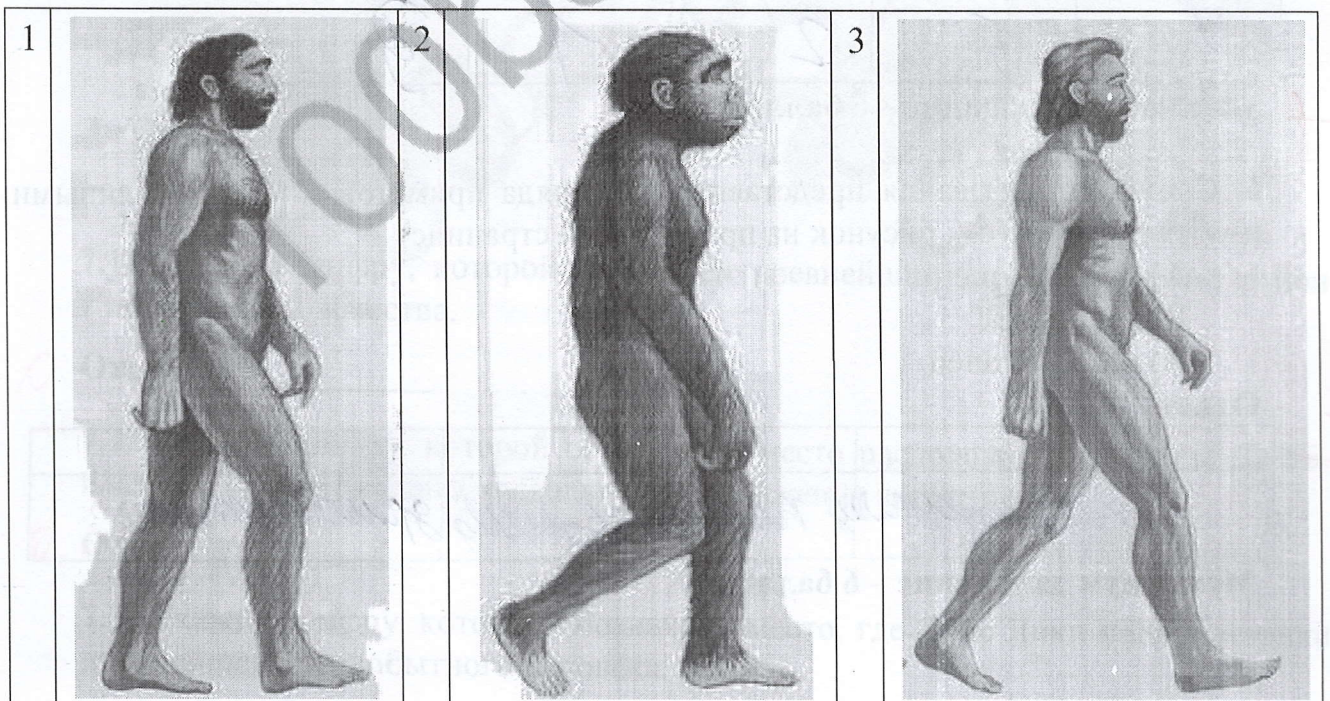
- 1) IV век до н. э.
- 2) 104 год до Р. Х.
- 3) 6999 год от Сотворения мира
- 4) 1879 год н. э.
- 5) XVII век н. э.


Ответ.

104	4	104	1879	6999
-----	---	-----	------	------

Максимум за задание – 4 балла.

5. Рассмотрите предложенные изображения и выполните задания.





5.1. Заполните пропуск в предложении: «Изображения отражают разные этапы процесса биологической Эволюции человека».

† Ответ. Эволюция

5.2. Расставьте эти изображения в верной хронологической последовательности данного процесса.

Ответ.

4	5	2	1	3
---	---	---	---	---

† Максимум за задание – 6 баллов.

6. Соотнесите названия представителей отряда приматов с представленными изображениями (см. рисунок на предыдущей странице).

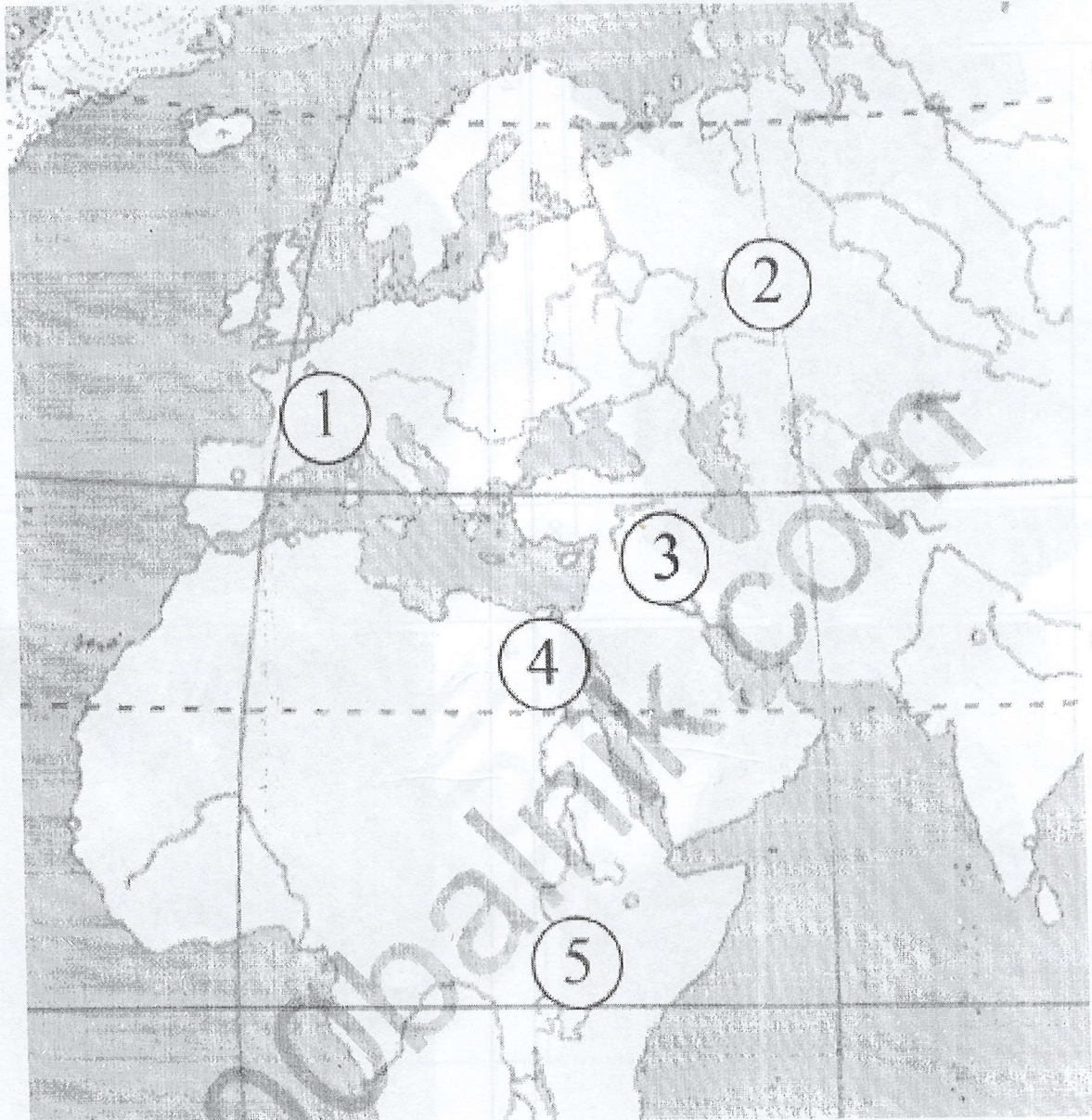
- А) кроманьонец
- Б) дриопитек
- В) неандерталец

† Ответ.

А	Б	В
<u>Неандерталец Кроманьонец Дриопитек</u>		

Максимум за задание – 6 баллов.

7. Рассмотрите карту и выполните предложенные задания.



7.1. Укажите цифру, которой обозначен древнейший земледельческий район в истории человечества.

0 Ответ. 4

7.2. Укажите цифру, которой обозначено место расположения пещеры Ласко, в которой были найдены наскальные изображения животных.

0 Ответ. 3

7.3. Укажите цифру, которой обозначено место, где Луис Лики нашёл останки древнейшего первобытного человека.

4 Ответ. 5

Максимум за задание – 6 баллов.

Всероссийская олимпиада школьников по истории 2019–2020 уч. г.
Школьный этап. 5 класс



0 Ответ. 5, 7, 8, 6, 2, 1, 3, 4

Максимум за задание – 8 баллов.

Максимум за работу – 50 баллов.

8. Укажите порядковые номера медалей, которые связаны с событиями Великой Отечественной войны 1941–1945 гг.

